



COURS ET EXERCICES : NIVEAU C P 1 N°1

Lecture

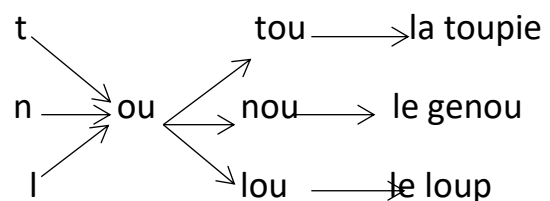
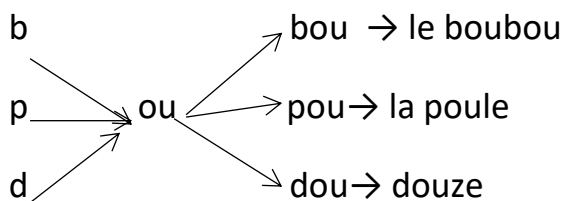
Lis : le son « **ou** »

▶ Je lis : ou - ou - ou – ou – ou - ou

▶ Copie

ou :

▶ fais les associations



▶ **Exercices**

1- donne des mots contenant le son « **ou** »

ou :

2- Complète avec : ou

le b.....b....., la t.....pie, la b.....le, la p.....pée

Texte :

boulou a une toupie.

la toupie roule.

Lis le texte et entoure la bonne réponse

- mamadou a une toupie
- La toupie roule

- boulou n'a pas de toupie

1

Exercices d'application

1) Complète avec ou

une p.....belle, une b.....le, la p.....le, déb.....t

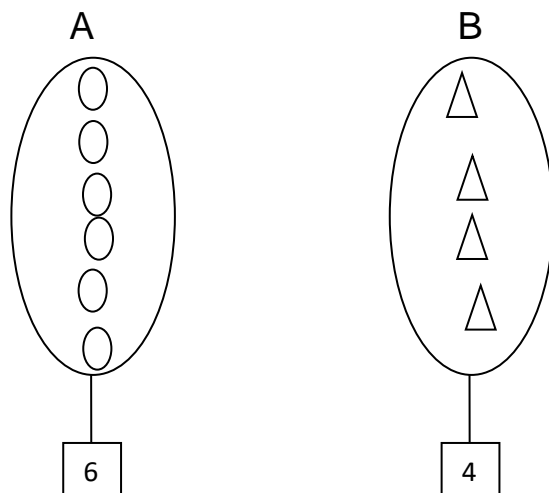
2) Complète avec pou

unebelle, lapée, lale

MATHEMATIQUES

Comparaison des nombres à l'aide des signes $>$ et $=$

•Faisons la correspondance un pour un



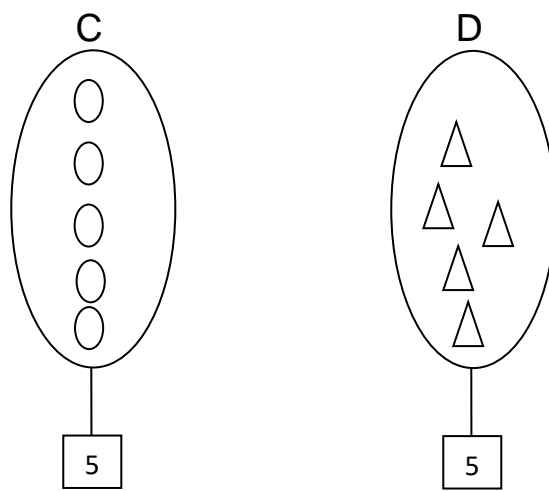
•Qui a le plus d'éléments ? ► C'est la collection A

A = 6 éléments et B = 4 éléments

A > B ► on lit : A est plus grand que B

On écrit : **6 > 4** ► on lit : **6 est plus grand que 4**

•dis la collection qui a le plus d'éléments



C et D ont le même nombre d'éléments, donc on dit que la collection C et la collection D sont pareilles.

On écrit : $C = D$ ou $5 = 5$

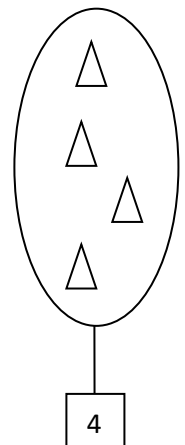
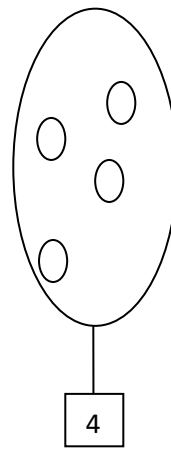
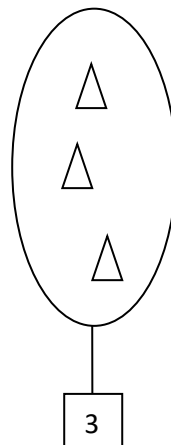
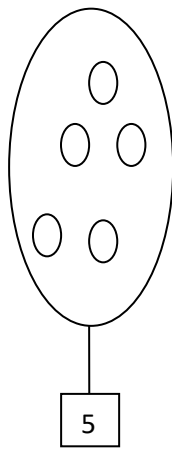
On dit que 5 est égal à 5 (c'est la même chose)

NB : j'utilise les signes pour comparer

< (ressemble à 4)	Se lit plus petit que	$4 < 6$
> (ressemble à 7)	Se lit plus grand que	$6 > 4$
= (signifie même chose)	Se lit égal à	$6 = 6$

Exercices

1- mets le signe qui convient : > ou =



.....

.....

2- Mets un nombre qui convient

6 >

9 =

8 >

5 >